


Entraînement au Rallye Mathématique

Thème : Additions et soustractions

Noms des personnes du groupe :

EXERCICE N°1 : Ludiques

1	9	2
6	5	4
3	7	8

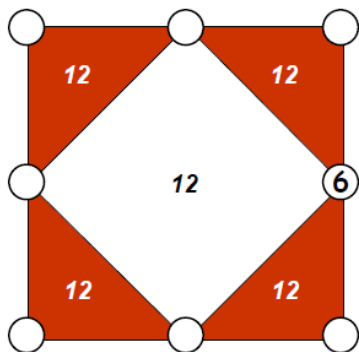


Première addition :

Deuxième addition :

Troisième addition :

EXERCICE N°2 : Classique



Premier triangle :

Deuxième triangle :

Troisième triangle :

Quatrième triangle :

Carré :

EXERCICE N°3 : Avec des nombres consécutifs

45 =

45 =

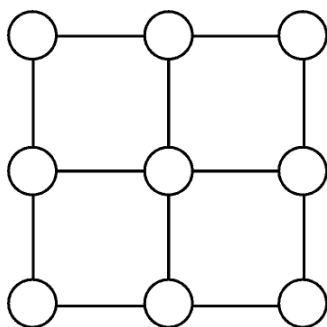
45 =

45 =

45 =

45 =

EXERCICE N°6 : Avec des ronds



EXERCICE N°4 : Avec ma calculatrice

1 =

2 =

3 =

4 =

5 =

6 =

7 =

8 =

9 =

10 =

EXERCICE N°5 : Avec des dés

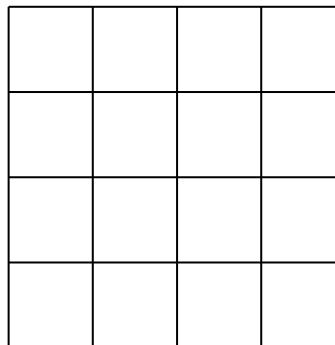
Première possibilité :

..... - =

..... - =

..... - =

Patron pour cette possibilité :



Deuxième possibilité :

..... - =

..... - =

..... - =

Patron pour cette possibilité :

